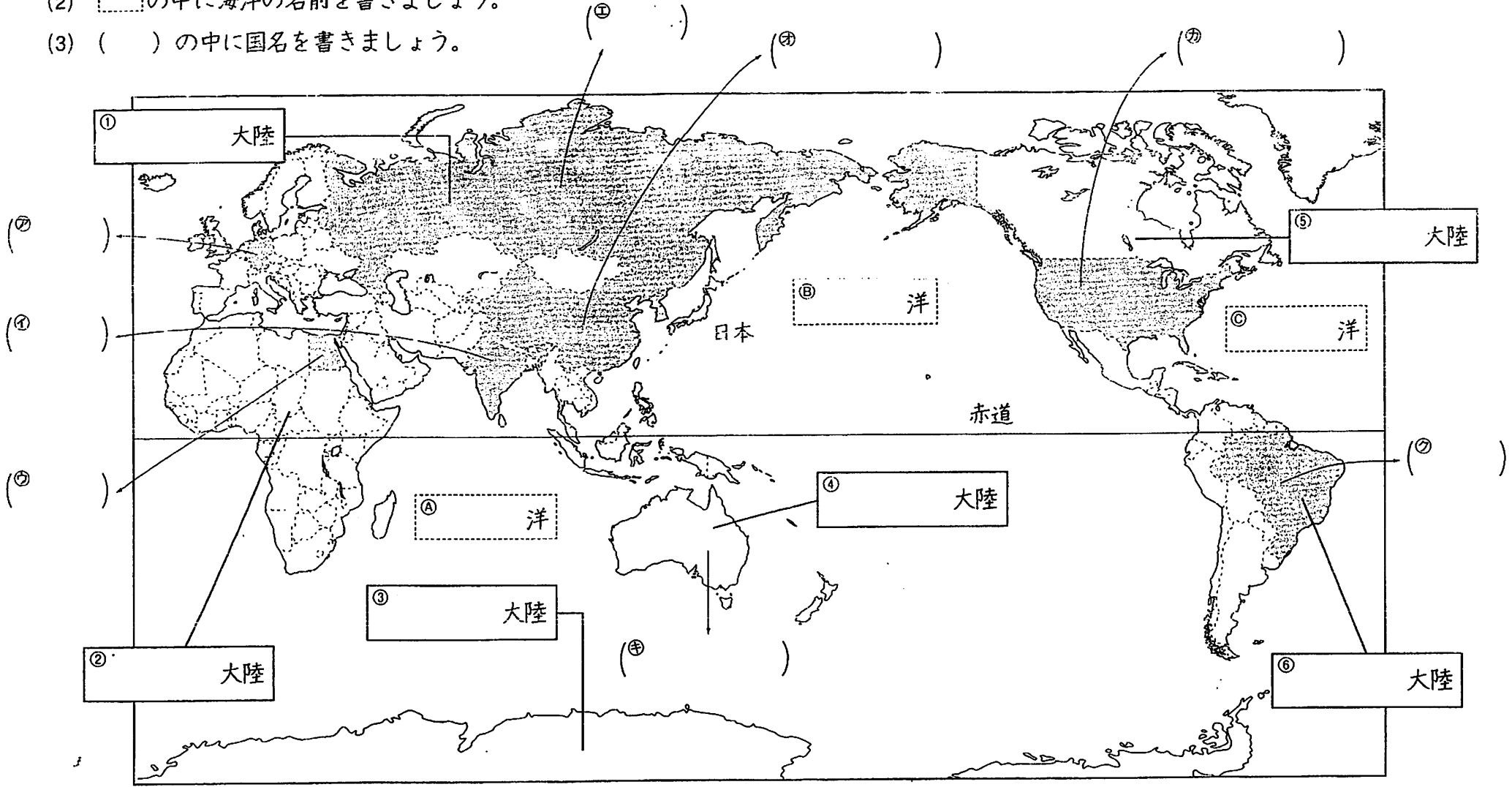


# 世界のおもな国

学習日 / 名前

地図帳などを見て作業しましょう。

- (1) の中に大陸の名前を書きましょう。
- (2) の中に海洋の名前を書きましょう。
- (3) ( )の中に国名を書きましょう。

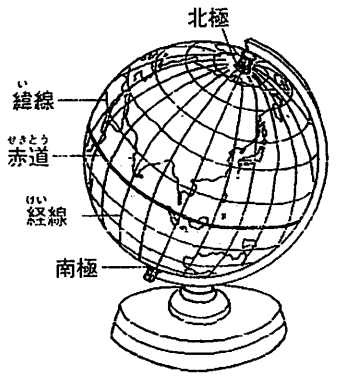


② 下の地図を見て、㉗～㉛の国名を□から選び、番号を書き入れましょう。

① 地球上の位置の表し方について、答えましょう。

(1) 地球儀や地図に引かれているたての線、横の線のことを何といいますか。

- ① たての線 (                      )
- ② 横の線 (                      )



(2) 次の文の( )にあてはまる言葉を書き入れましょう。

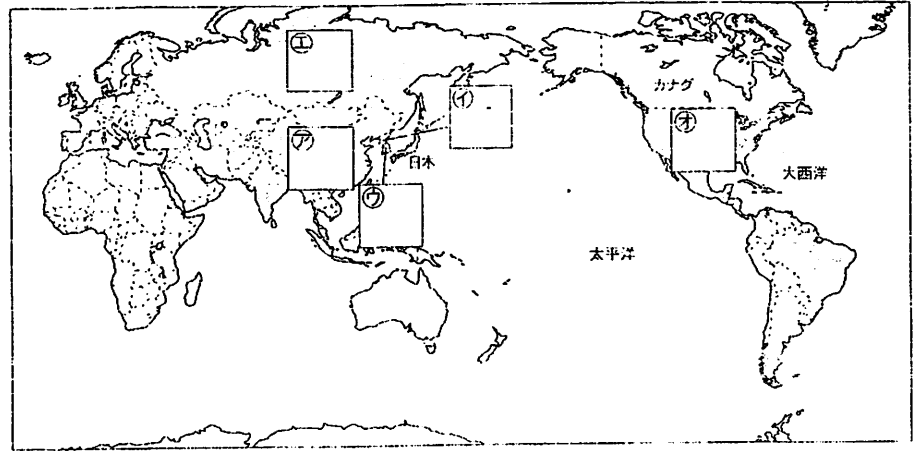
経線は、<sup>(1)</sup> )と南極を結ぶ線で、イギリスのグリニッジ天文台のあった地点を<sup>(2)</sup> )度として、東と西にそれぞれ<sup>(3)</sup> )度ずつになっています。東側を<sup>(4)</sup> )、西側を<sup>(5)</sup> )といっています。

緯線は、<sup>(6)</sup> )を0度として、南と北にそれぞれ<sup>(7)</sup> )度ずつになっています。北側を<sup>(8)</sup> )、南側を<sup>(9)</sup> )といっています。

(3) 日本の時刻は、兵庫県明石市を通る経線をもとにして、決められています。それは何度の経線か、次の㉗～㉙から選びましょう。

- |         |         |          |
|---------|---------|----------|
| ㉗ 西経45度 | ㉘ 東経35度 | ㉙ 東経135度 |
|---------|---------|----------|

(                      )



- |               |           |
|---------------|-----------|
| ① 朝鮮民主主義人民共和国 | ② アメリカ合衆国 |
| ③ ロシア連邦       | ④ 中華人民共和国 |
|               | ⑤ 大韓民国    |

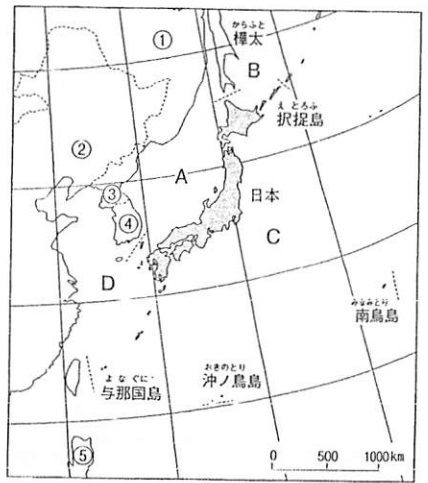
③ 次の文の( )にあてはまる言葉を□から選んで書き入れましょう。  
 日本は、ユーラシア大陸の<sup>(1)</sup> )側にあつて、北東から<sup>(2)</sup> )に細長い島国です。その長さは、だいたい<sup>(3)</sup> )kmあります。日本の広さは、約<sup>(4)</sup> )km<sup>2</sup>あつて、本州をはじめ、<sup>(5)</sup> )、<sup>(6)</sup> )、<sup>(7)</sup> )の4つの大きな島とおよそ<sup>(8)</sup> )の小さな島からできています。人口は、およそ<sup>(9)</sup> )人です。  
 日本は、世界でも山地のわりあいの高い国で、国土の約<sup>(10)</sup> )は山地です。

- |      |         |      |      |     |
|------|---------|------|------|-----|
| 4分の3 | 1億3000万 | 7000 | 3000 | 38万 |
| 東    | 南西      | 九州   | 四国   | 北海道 |

① 右の地図を見て、次の問いに答えましょう。

(1) 日本のまわりのA～Dの海の名前を、下の□から選んで書きましょう。

- A (                    )
- B (                    )
- C (                    )
- D (                    )



日本海      オホーツク海      太平洋      東シナ海

(2) ①～⑤にあたる国々の名前を、下の□から選んで、記号を書きましょう。

ちゅうかじんみんきょうわこく ㊦ 中華人民共和国    ① フィリピン    だいかんみんこく ㊧ 大韓民国  
ちようせんみんしゆしゆぎじんみんきょうわこく ㊨ 朝鮮民主主義人民共和国    ㊩ ロシア連邦

- ① (                    )      ② (                    )      ③ (                    )
- ④ (                    )      ⑤ (                    )

(3) 日本の東・西・南・北のはしにあたる島々の名前を書きましょう。

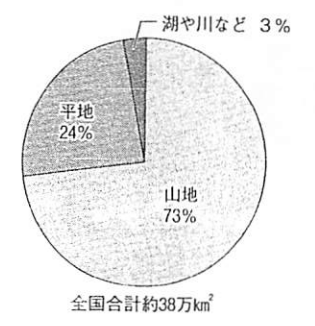
東のはし (                    )      西のはし (                    )

南のはし (                    )      北のはし (                    )

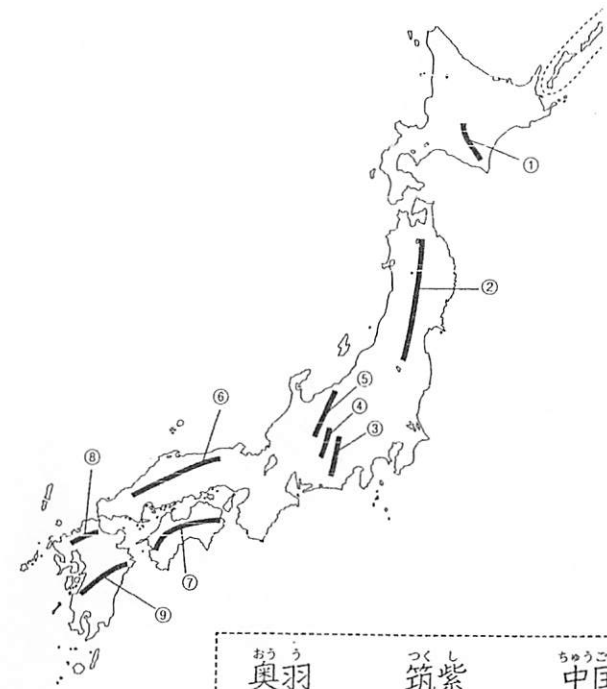
② 日本の国土について、答えましょう。

(1) 日本の国土の面積で、一番広い地形は何ですか。

(                    )



(2) 日本の山地や山脈の名前を□から選んで書きましょう。



- ① (                    ) 山脈
- ② (                    ) 山脈
- ③ (                    ) 山脈
- ④ (                    ) 山脈
- ⑤ (                    ) 山脈
- ⑥ (                    ) 山地
- ⑦ (                    ) 山地
- ⑧ (                    ) 山地
- ⑨ (                    ) 山地

おう 奥羽      つくし 筑紫      ちゅうこく 中国      ひだか 日高      きゅうしゅう 九州  
ひだ 飛驒      きそ 木曾      しこく 四国      あかいし 赤石

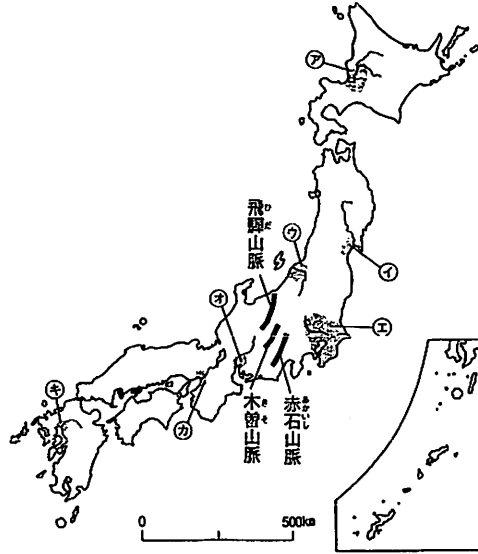
# 日本の川と平野

学習日 / 名前

① 右の地図を見て、次の問いに答えましょう。

(1) 次の平野を見つけて、その記号を( )に書きましょう。

- ① 関東平野 ( )
- ② 濃尾平野 ( )
- ③ 越後平野 ( )
- ④ 石狩平野 ( )
- ⑤ 筑紫平野 ( )
- ⑥ 大阪平野 ( )
- ⑦ 仙台平野 ( )



(2) ㉠～㉦の平野を流れる川の名前を下の□から選んで番号で書きましょう。

㉠	㉡	㉢	㉣	㉤	㉥	㉦
---	---	---	---	---	---	---

- |       |       |       |       |
|-------|-------|-------|-------|
| ① 北上川 | ② 淀川  | ③ 木曾川 | ④ 筑後川 |
| ⑤ 石狩川 | ⑥ 信濃川 | ⑦ 利根川 |       |

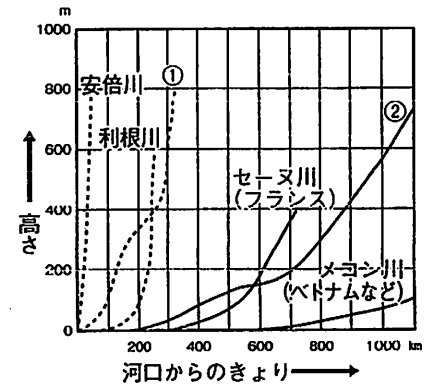
(3) 本州の中央部にそびえる、高さ3000m以上の飛騨山脈、木曾山脈、赤石山脈は、建物の一部になぞらえて「日本の〇〇」といいます。〇〇は何ですか。日本の( )

② 次の文のうち正しいものに○をつけましょう。

- ① ( ) 日本の国土は約4分の3が山地である。
- ② ( ) 日本には火山が1つも無い。
- ③ ( ) 山の頂上<sup>ちようじやう</sup>が長く続いて、ひとつながりになっている山々を山脈という。
- ④ ( ) 平野では、交通が発達していて、都市が集まっている。

③ 日本の川、外国の川について次の問いに答えましょう。

(1) 右の図は、日本の川として安倍川、利根川、信濃川を表し、外国の川としてフランスのセーヌ川、ベトナムのメコン川、アメリカのコロラド川を表しています。図の①、②の川の名前を書きましょう。



- ① ( )
- ② ( )

(2) 日本の川の特ちょうで正しいものを2つ選んで○をつけましょう。

- ① ( ) 川の長さが長い。
- ② ( ) 川の長さが短い。
- ③ ( ) 流れが急である。
- ④ ( ) 流れがゆるやかである。

# 社会習熟5年 解答

[P. 4]

- |          |          |
|----------|----------|
| ①ユーラシア   | ②アフリカ    |
| ③南極      | ④オーストラリア |
| ⑤北アメリカ   | ⑥南アメリカ   |
| ⑦インド     | ⑧太平      |
| ⑨大西      | ⑩インド     |
| ⑪ドイツ     | ⑫ロシア連邦   |
| ⑬エジプト    | ⑭アメリカ合衆国 |
| ⑮中華人民共和国 | ⑯アメリカ合衆国 |
| ⑰オーストラリア | ⑱ブラジル    |

[P. 5]

- ① (1)①経線          ②緯線  
 (2)①北極          ②0  
 ③180                ④東経  
 ⑤西経                ⑥赤道  
 ⑦90                 ⑧北緯  
 ⑨南緯  
 (3)②
- ② ⑦④          ①①          ②⑤  
 ⑤③          ④②
- ③ ①東                ②南西  
 ③3000              ④38万  
 ⑤北海道            ⑥九州  
 ⑦四国               ⑧7000  
 ⑨1億3000万      ⑩4分の3  
 (※⑤⑥⑦順不同)

[P. 6]

- ① (1)A 日本海          B オホーツク海  
 C 太平洋              D 東シナ海

- (2)①④          ②⑦          ③⑤  
 ④②          ⑤①  
 (3)東のはし 南島島  
 西のはし 与那国島  
 南のはし 沖ノ島島  
 北のはし 択捉島
- ② (1)山地  
 (2)①日高              ②奥羽  
 ③赤石                ④木曾  
 ⑤飛騨                ⑥中国  
 ⑦四国                ⑧筑紫  
 ⑨九州

[P. 7]

- ① (1)①⑤          ②④          ③②  
 ④⑦          ⑤⑥          ⑥③  
 ⑦①  
 (2)⑦⑤          ①①          ②⑥  
 ⑤⑦          ③③          ④②  
 ⑤④
- (3)屋根
- ② ○をつけるもの…①③④
- ③ (1)①信濃川          ②コロラド川  
 (2)○をつけるもの…②③

[P. 8]

- ① ⑦北海道              ①東北  
 ②関東                ②中部  
 ③近畿                ③中国  
 ④四国                ④九州
- ② ①北海道 札幌市

- ②青森県 青森市  
 ③岩手県 盛岡市  
 ④宮城県 仙台市  
 ⑤秋田県 秋田市  
 ⑥山形県 山形市  
 ⑦福島県 福島市  
 ⑧茨城県 水戸市  
 ⑨栃木県 宇都宮市  
 ⑩群馬県 前橋市  
 ⑪埼玉県 さいたま市  
 ⑫千葉県 千葉市  
 ⑬東京都 東京 (新宿区)  
 ⑭神奈川県 横浜市  
 ⑮新潟県 新潟市  
 ⑯富山県 富山市  
 ⑰石川県 金沢市  
 ⑱福井県 福井市  
 ⑲山梨県 甲府市  
 ⑳長野県 長野市  
 ㉑岐阜県 岐阜市  
 ㉒静岡県 静岡市  
 ㉓愛知県 名古屋市  
 ㉔三重県 津市  
 ㉕滋賀県 大津市  
 ㉖京都府 京都市  
 ㉗大阪府 大阪市  
 ㉘兵庫県 神戸市  
 ㉙奈良県 奈良市  
 ㉚和歌山県 和歌山市  
 ㉛鳥取県 鳥取市  
 ㉜島根県 松江市  
 ㉝岡山県 岡山市  
 ㉞広島県 広島市  
 ㉟山口県 山口市

- ㊿徳島県 徳島市  
 ㊿香川県 高松市  
 ㊿愛媛県 松山市  
 ㊿高知県 高知市  
 ㊿福岡県 福岡市  
 ㊿佐賀県 佐賀市  
 ㊿長崎県 長崎市  
 ㊿熊本県 熊本市  
 ㊿大分県 大分市  
 ㊿宮崎県 宮崎市  
 ㊿鹿児島県 鹿児島市  
 ㊿沖縄県 那覇市